



















«Юный краевед-2021». Вопросы для 1-4 классов.

№	Вопросы тестовые (выберите правильный ответ из предложенных вариантов)								
1.	<p>Перед вами фотографии четырёх видов сов, которые встречаются в Костромской области. Одна из этих птиц крупнее прочих и находится на втором месте по размерам среди сов Костромской области (крупнее только филин). Сопоставьте изображение с названием птицы, и выберите правильный ответ.</p> <table border="1" data-bbox="220 450 1466 1151"> <tr> <td data-bbox="220 450 352 792">a</td> <td data-bbox="352 450 842 792"></td> <td data-bbox="842 450 959 792">b</td> <td data-bbox="959 450 1466 792"></td> </tr> <tr> <td data-bbox="220 792 352 1151">c</td> <td data-bbox="352 792 842 1151"></td> <td data-bbox="842 792 959 1151">d</td> <td data-bbox="959 792 1466 1151"></td> </tr> </table> <p>Названия птиц: 1. Ястребиная сова. 2. Болотная сова. 3. Бородатая неясыть. 4. Ушастая сова.</p> <p>Варианты ответов: А) a 1 Б) c 3, Бородатая неясыть В) b 2 Г) d 4</p>	a		b		c		d	
a		b							
c		d							
2.	<p>В Костроме, на площади Конституции растёт редкое в наших краях дерево, родом с Дальнего Востока. Выберите правильный вариант ответа Это</p> <table border="1" data-bbox="220 1666 1466 2177"> <tr> <td data-bbox="220 1666 842 2177"> <p>А) Ясень пенсильванский</p>  </td> <td data-bbox="842 1666 1466 2177"> <p>Б) Бук восточный</p>  </td> </tr> </table>	<p>А) Ясень пенсильванский</p> 	<p>Б) Бук восточный</p> 						
<p>А) Ясень пенсильванский</p> 	<p>Б) Бук восточный</p> 								

В) Шелковица чёрная



Г) Бархат амурский



3. В отделе природы Костромского музея–заповедника, на экспозиции «Мезозой» можно увидеть окаменевшие останки одного из древних ящеров, обнаруженные на территории Костромской области. Это часть скелета пояса конечностей ...

- А) Диплодока
- Б) Эласмозавра
- В) Ихтиозавра**
- Г) Трицератопса

Для поиска ответа на вопрос можно воспользоваться сайтом «Музей на связи.ru» (https://музейнасвязи.рф/muzeyny_predmet)


4. Эта река протекает не только по территории Костромской области, но также по территории Кировской, Нижегородской областей и республики Марий-Эл

- А) Кострома
- Б) Покша
- В) Нёмда
- Г) Ветлуга**

5. На фотографиях, представленных ниже, изображены насекомые, одно из которых занесено в Красную книгу Костромской области. Выберите и подчеркните правильный ответ



А) Голубая орденская лента



Б) Адмирал



В) Бражник малый винный



Г) Червонец огненный

6. В Костромской области произрастает много видов травянистых растений. Есть среди них и ядовитые и съедобные! Найдите на представленных ниже иллюстрациях растение со съедобными листьями.



А) Очиток едкий



Б) Очиток пурпурный



В) Ветреница дубравная



Г) Лютик ползучий

7. 1. Почему в Костроме установлен памятник Юрию Долгорукому?

А) Юрий Долгорукий – князь, который сражался с татаро-монгольскими войсками на Костромской земле

Б) Юрий Долгорукий – князь, основатель Костромы

В) Юрий Долгорукий - известный купец, который вел торговлю в Костроме

Г) Юрий Долгорукий – князь и основатель Ипатьевского монастыря

8. 2. Кострома славилась многими промыслами и ремёслами, например кожевенным, мыловаренным, шапочным и др. Один из этих промыслов прославил Кострому. В центре нашего города поставлен памятник мастеру-ремесленнику как символ процветания этого промысла на Костромской земле. О каком промысле идёт речь?



- А) гончарный промысел (Петровская игрушка)
Б) сыроварение (костромской сыр)
В) ювелирный промысел (красносельская скань)
Г) ткацкий промысел (льнопрядение)

9. 3. Какой памятник архитектуры представлен на фотографии.



- А) Романовский музей.**
Б) Палаты бояр Романовых.
В) Сказочный терем, где живет Снегурочка.
Г) Театр имени А. Н. Островского.

10. 4. В поэме Н.А Некрасова рассказывается о том, как дедушка Мазай во время половодья спасал зайцев. Где на территории Костромской губернии проживал дед Мазай?

- А) В Костроме.
Б) В деревне Вежи Зарецкого края.
В) В Сусанино

Г) В Галиче

11. 5. Какой из районов Костромской области производит больше всего сыра?

А) Сусанинский район

Б) Нерехтский район

В) Костромской район

Г) Буйский район

12. 6. Где драматург А.Н. Островский завершает работу над сказкой «Снегурочка»?

А) В Москве

Б) В Сибири

В) В Чухломе

Г) В усадьбе Щельково Островского района

Творческие задания.

1 Рассмотрите фотографии рыб – обитателей Костромской области. Один из представленных видов находится на грани исчезновения. Найдите изображение этой рыбы.



Ответьте на вопросы:

1) Как называется эта рыба?

- 2) К какому семейству и к какому отряду относится данный вид?
- 3) В чём причины сокращения численности этих рыб?
- 4) Как называется книга, куда заносят исчезающие виды?

Ответ:

- 1) Эта рыба называется стерлядь
- 2) Относится к семейству Осетровые и отряду Осетрообразные относится данный вид?
- 3) Причины сокращения численности этих рыб заключаются в следующем: Загрязнение рек промышленными, сельскохозяйственными и бытовыми стоками (стерлядь весьма чувствительна к загрязнению воды и содержанию в ней кислорода).
Чрезмерный вылов, браконьерство.
Создание плотин и водохранилищ, что замедляет течение рек, приводит к уменьшению количества кислорода в воде и заболачиванию.
- 4) Книга, куда заносят исчезающие виды, называется Красная книга.

2. В Костроме, на улице Симановского, можно увидеть вот такие часы.



На каком здании находятся эти часы?

Расскажите об этом учреждении: когда и кем было основано, по какому адресу находится, какие улицы его окружают и чем известно в настоящее время.

Ответ:

1. Часы находятся на звоннице Богоявленско-Анастасииного монастыря.
2. Основан монастырь в 1426 году (1 балл) Никитой Костромским, учеником и родственником преподобного Сергия Радонежского, бывшим настоятелем Высоцкого монастыря в Серпухове, а затем Высоко-Покровского монастыря в Боровске

В настоящее время находится по адресу: ул. Симановского, 26.

Рядом проходят улицы Пятницкая, Комсомольская, Козуева

В Богоявленско-Анастасиином монастыре находятся святыни: чудотворная икона Богородицы – это святыня дома Романовых, и Святые Мощи Преподобного Никиты ученика и родственника Преподобного Сергия

Радонежского.

На территории монастыря в настоящее время находятся Костромское епархиальное управление и Костромская духовная семинария. При монастыре действуют приют для девочек – сирот во имя св. Иоанна Кронштадтского и богадельня для престарелых во имя св. Марии Магдалины.